

Radiant Central Children Academy

Jalalpur-Ambedkar Nagar



Summer Vacation Homework

Class : II



www.radiantacademy.in

RADIANT CENTRAL CHILDREN ACADEMY
Summer Vacation Home Work
CLASS- 2
ENGLISH

1. Identify the pictures and write the names of the famous rhymes given below.




2. Circle the word that does not rhyme with others.

- | | | | |
|----------|--------|-------|-------|
| 1. Light | bright | night | eight |
| 2. Glass | mash | class | grass |
| 3. Frog | dog | bog | bag |
| 4. Book | spook | cook | took |
| 5. Found | crown | hound | sound |

3. Draw lines to match the rhyming words.

- | | |
|--------|---------|
| Wall | tuffet |
| Giggle | wriggle |
| Moon | clock |
| Day | fall |
| Man | life |
| Dock | spoon |
| Wife | play |
| Muffet | can |

4. Choose the correct sentence.



An elephant is green.
 An elephant can walk.

An elephant is black.
 An elephant can fly.

5. Draw the picture of your favourite summer fruits/ food and write three sentences about it.

6. Create a beautiful word train of 15 words in your English copy using the last alphabet of the word.

Ex.

Boy	Yatch	House
-----	-------	-------

7. Paste a picture of a market in the notebook and write the name of ten things that you would like to buy for your summer break.

8. Look at the picture and fill in the blanks using 'this' or 'that'.

1. _____ is a tree.
2. _____ is an apple.
3. _____ is a hill.
4. _____ is a flower.
5. _____ is a duck.
6. _____ is an elephant.
7. _____ is a cake.

9. Take photographs of different places (any two) from old magazines and paste them in your notebook. Write the name of the place. Then write two sentences about the picture.
10. Draw the pictures of ten opposite words in your notebooks.
11. Write each set of words in alphabetical order.

1. brown green purple red

2. spot blot hot cot

3. cuboid sphere triangle rectangle

4. here there said who



12. (a) Some magic words I use everyday

1. _____ 2. _____ 3. _____

(b) I help my parents in

1. _____ 2. _____ 3. _____

13. Change from Singular to Plural-

Friend

Flower

Pot

Sheet

Pen

Computer

Tree

Car

15. Rearrange the words to make meaningful sentences.

- blue The is car
- book a she reading
- cat the sleeping is
- can bat the fly
- like I candy

16. Write 10 pages handwriting in your notebook.

Environmental studies

1. Name the person who does the following work in your house .

- Cooks food for us _____
- Help with home work/ studying__
- Plans family travel and trip _____
- Takes care of pets/domestic animals__
- Buys groceries_____
- Earn money for us _____
- Drives kids to school/ activities__
- Takes care of the yard work _____

2. Make a keep –neat stationery bag.

Take an old cloth bag or a sack, cut square pieces of different types of colour ful cloth. Take help to stitch pockets with the cloth pieces. Keep your pencils in one pocket, your crayons in another pocket and so on .

3. Identify the pictures of house building materials and write their name in the given blanks.







4. What will you do in the following cases ?
- a. A house in your neighbourhood has caught fire
-
5. Who should they go to?
- a. Meetu's tap is not working ,she should go to a -----
- b. Manu wants to carry a bouquet for his granny he should go to a -----
- c. Ishu`s hair is long and untidy,to make them look short and neat he should go to a -----
- d.Molly ate too many chocolates, she has toothache. She should go to a -----
6. Write down 5 things you take in your school bag.

7. Answer the following -

- a. Who is your class teacher ?
- b. Who cleans your classroom ?
- c. Who looks after the plants in your school?
8. Name four animals that are used to carry load from one place to another .
9. When we grow ,some body features change and some remain the same . Write `SAME `or `CHANGE` against each feature :

Features	Same / Change
1.Height	
2.Colour of eyes	
3. Weight	
4. Number of teeth	
5. Colour of skin	

10. Why do we see so many signs on the road ? Draw any two traffic signs and write their names.

11. Answer the questions :

- a. What will happen if you leave your toys on the floor?
- b. What will happen if you run when you go up or down the stairs?

12. Match the following :

- | | |
|----------------------------------|---------------|
| a. Purchasing milk | tailor shop |
| b. Getting a shirt stitched | milk booth |
| c. Buying medicines | bakery |
| d. Buying bread and biscuits | medical store |
| e. Depositing /withdrawing money | bank |

13. List four things that you see in your classroom .

14. Make a list of 3 Dos and 3 Don`ts for your classroom. Share your ideas on a poster on `cleanliness .

15. Make a list of the important phone numbers in your neighbourhood .

- | | |
|----------------------------------|-------------------------|
| 1. Aunt (a friendly neighbour) | 5. Fire station |
| 2. Uncle (a friendly neighbour) | 6. Police station |
| 3. Nearest hospital | 7. Ambulance |
| 4. Family doctor (Dr.....) | |

Subject – Maths

1. Add or Subtract?

$21 \square 21 = 42$

$45 \square 4 = 41$

$37 \square 7 = 30$

$90 \square 30 = 60$

$82 \square 12 = 70$

$56 \square 4 = 60$

$79 \square 11 = 90$

$33 \square 23 = 10$

$61 \square 8 = 69$

$17 \square 60 = 77$

2. 465

674

$+ 239$

$- 312$

3. Subtract the following.

a. $853 - 142$ b. $653 - 143$ c. $159 - 138$ d. $803 - 362$ e. $561 - 158$

4. A company produced 728 toys. Out of these, 450 were packed in boxes. How many toys remained unpacked.?

Solution

Number of produced toy = 728

Packed toy in boxes = -450

Answer: Unpacked toy =

5. Multiply

a. $9 \times 6 = \underline{\quad}$ b. $4 \times 3 = \underline{\quad}$ c. $2 \times 8 = \underline{\quad}$

d. $7 \times 4 = \underline{\quad}$ e. $6 \times 5 = \underline{\quad}$

6. Find out

a. $4 \times \underline{\quad} = 24$

d. $\underline{\quad} \times 5 = 30$


b. $8 \times \underline{\quad} = 16$

e. $\underline{\quad} \times 6 = 60$

c. $7 \times 10 = \underline{\quad}$

7. Write the tables of 6 and 9.

8. Direction : write the answer to each subtraction problem. Colour each part of the picture using the colour code.



9. Write the number name

a. 43 _____ b. 580 _____

10. Write <, > or =

a. $163 \underline{\quad} 391$

b. $462 \underline{\quad} 462$

11. Write the expanded form

a. $763 = \underline{\quad} + \underline{\quad} + \underline{\quad}$

b. $453 = \underline{\quad} + \underline{\quad} + \underline{\quad}$

12. What comes after 530 _____

5. What comes just before _____ 843

13. Write the place value of encircled digits

a. $3(4)6$ _____ b. $1(5)6$ _____ c. $14(3)$ _____

14. Write in short form.

A. 4 hundred + 4 tens + 1 ones = _____ B. 3 hundred + 2 tens + 1 tens = _____

15. Write the missing numerals .

167				171					
340						346			
512		514							
765					770				
423							430		

16. Make a project multiplication tables any one numbers like 2,3,4,5,6,7,8,9.



17. Write the numerals from 201 to 220

18. Write the tables 2 to 12.

Hindi

1. निम्नलिखित गद्यांश को पढ़कर पूछे गए प्रश्नों के उत्तर लिखिए

एक नन्ही परी थी। वह बहुत प्यारी थी पर उसे उड़ने में बहुत डर लगता था। उसकी दो प्यारी सखियां थीं, सोना और मोना। एक दिन उन्होंने नन्ही परी से कहा “नन्ही परी आज हम धरती पर घूमने जाएंगे क्या तुम हमारे साथ चलोगी?” नन्ही परी डर गई वह बोली नहीं- नहीं मुझे उड़ने से डर लगता है।

1-परी की सहेलियों का क्या नाम था ?

2- परी को किस बात से डर लगता था?

3- गद्यांश में आए ई की मात्रा वाले शब्द लिखिए

4- गद्यांश के आधार पर रिक्त स्थान की पूर्ति कीजिए-

वह बहुत ----थी।

2. लिखित पद्यांश को पढ़कर पूछे गए प्रश्नों के उत्तर लिखिए

फूलों से नित हंसना सीखो

भौरों से नित गाना,

तरु की झुकी डालियों से नित

सीखो शीश झुकाना।

1- फूल से हम क्या सीख सकते हैं?

2- भौरा हमें क्या सिखाता है?

3- कविता में आए समान तुक वाले शब्द लिखिए-

4- मिलना और मिलाना हमें कौन सिखाता है?

3. दिए गए शब्दों में छह शब्द छिपे हैं खोज कर लिखिए-

रा म न ग र

4. दिए गए चित्र को देखकर पूछे गए प्रश्नों के उत्तर लिखिए-



1-वर्षा होने से सबसे अधिक खुश कौन है?

2-वर्षा में कितने बच्चे नहा रहे हैं?

सीख हवा के झोंकों से लो
कोमल भाव जगाना,
दूध और पानी से सीखो
मिलना और मिलाना।

3- छाता लेकर चलने वाले लोग कितने हैं?

4- कितने लोग पेड़ के नीचे खड़े हैं और क्यों?

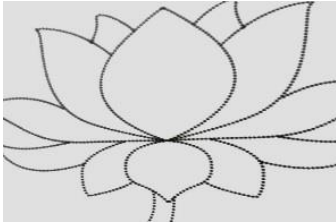
5. किस मौसम में तुम क्या क्या करते हो?

क्या करते हैं?	सर्दी के मौसम में	गर्मी के मौसम में	बरसात के मौसम में
ठंडा शरबत पीते हैं			
धूप में बैठते हैं			
गर्म कपड़े पहनते हैं			
छाता लेकर बाहर जाते हैं			
कूलर की हवा में बैठते हैं			
कागज़ की नाव बनाकर पानी में तैराते हैं			✓

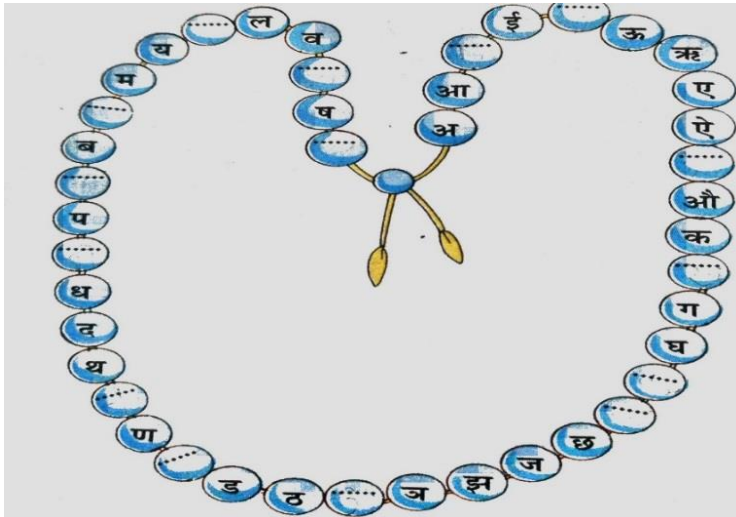
6. उदाहरण के अनुसार दी गई वर्ग पहेली में दस पेड़ों के नाम खोजकर लिखिए-

चं	अ	शो	क	ता	पी
द	ची	इ	दं	इ	प
न	नी	म	ब	बू	ल
दे	व	दा	र	तु	ख
आँ	व	ला	ग	ल	जू
म	ह	वा	द	सी	र

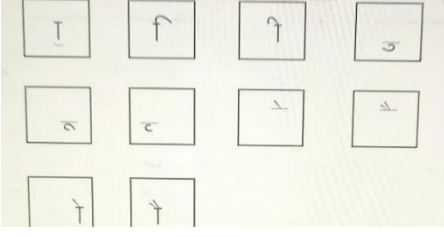
7. राष्ट्रीय पुष्प कमल के फूल का चित्र बनाकर कमल के फूल पर 2 वाक्य लिखिए



8. "अ" शुरू करके छोटे हुए वर्ण लिखकर माला पूरी कीजिए



9. निम्नलिखित स्वर की मात्राओं से बनने वाले एक-एक शब्द लिखिए-



10. स्वर एवं व्यंजन को अलग-अलग स्थान पर लिखिए-
स्वर व्यंजन



11. निम्नलिखित संयुक्त व्यंजनों से बनने वाले दो-दो शब्द लिखिए-

- क्ष
- ञ
- त्र
- श्र

12. सुलेख

पाठ चार (तितली) नामक कविता से चार पंक्ति की कविता लिखिए-

13. निम्नलिखित शब्दों की वर्तनी शुद्ध करके लिखिए

- सुरज
- गांव
- शांती
- पूष्प
- महातमा
- कवीता
- तीतली
- विस्वास
- अकाश
- कमयाब

14. गर्मी की छुट्टी पर चार वाक्य लिखिए

15. अपनी सुलेख पुस्तिका में 10 पेज सुलेख लिखिए ।