

Radiant Central Children Academy

Jalalpur-Ambedkar Nagar



Summer Vacation Homework

Class : IV



www.radiantacademy.in

Radiant Central Children Academy

SUMMER VACATION HOME WORK 2022-23

Subject- English (Class -4th)

- Learn and write any poem from 'Marigold' book.
- Write your daily routine in about 10 sentences.
- Q. Give one word for the following ;
 - A person who does not eat meat .-----
 - A person who stitches your clothes-----
 - A person who loves his country.-----
 - A woman whose husband has died.-----
 - A person who cut hair.-----
- Draw the opposite-
Happy -Sad
Day - Night
Tall - Short
Big - Small
Men - Women
White -Black
Big -Small
Full -Empty
- One should always help their parents and grandparents. Answer the following -
 - Do you help in cleaning the house ?
 - Do you help your mother in taking care of younger siblings?
 - Do you help your younger brother and sister in studies or in homework?
 - Do you give water to your father when he returns from work?
 - Do you help your grandparents ? How?
- Rearrange the following jumbled words to make meaningful sentence -
 - You where are going.
 - Milk cow us gives.
 - Elders you always respect should you.
 - Games love children play to.
 - Are my toys these.
 - Seven weeks are a in there days.
 - A lamb little had Mary.
- Frame sentences using the following words.
 - Mother
 - Play ground
 - Computer
 - Capital
 - Train
 - Uniform
 - Intelligent
 - Teacher
 - School
 - Home
- Choose the correct words and complete the sentences .
(Aquarium, shed, stable, kennel, hutch)
 - Gori is Ratan's cow. She lives in a-----
 - Hunter is Jijo's dog He lives in a -----
 - My fish Nemo lives in an-----
 - Myra has a rabbit.she lives in a -----
 - Musa's horse live in a-----
- Fill in the blanks (A, An ,The)
 - He has come without----- umbrella.
 - Ganga is a sacred river.
 - She returned after -----hour.
 - Allahabad is ----- holy city.
 - English is -----language.
- Rearrange the sentences in the correct order to make a story. Draw a picture related to the story.
 - He was thirsty.
 - He could not found water in anywhere .
 - Once there was a crow.
 - He few here and there in search of water.
 - At last he reached in a garden
 - There was a little water in it.
 - He saw a pot in the garden
 - The crow was very happy.
- Rearrange the words to make questions. You may need to make other changes -
 - are old you how.....
 - live you in which city to do.....
 - your school where is.....
 - on Sunday you do what do.....
 - favourite your which is colour.....
- Fill in the blanks with the correct words . Choose from the box –

Where , Who, Will, Do, When, What

- (a)does the show begin?
 (b)do you keeps your clothes?
 (c)is president of India?
 (d)is the time now?
 (e)You know how to swim?

13. Give the opposite of the words below by adding **un** or **im** -

- (i) Happy (vi) Important
 (ii) Polite (vii) Perfect
 (iii) Seen (viii) Healthy
 (iv) Proper (ix) Safe
 (v) Lucky (x) Patient

14. Do 10 page of handwriting in beautiful hands.

Class : 4 (Hindi)

गृहकार्य-1

प्रश्न 1. प्रस्तुत गद्यांश को पढ़कर नीचे दिए गये प्रश्नों के उत्तर लिखिए -

एक बार एक गाँव में एक महात्मा जी आए। उनका जीवन बहुत ही सरल और सादगी से पूर्ण था। उनकी वाणी में ऐसा तेज था, कि लोग उनके वचनों को अपने जीवन में उतारने का प्रयत्न करते थे। एक दिन महात्मा प्रवचन दे रहे थे तभी एक आदमी वहाँ दौड़ता हुआ आया। मैला-कुचैला, बड़ी हुई दाढ़ी, लाल-लाल आँखें। देखने से ही वह एक लुटेरा जान पड़ता था। सचमुच वह लुटेरा ही था। महात्मा के पैरों में माथा टिका कर कहने लगा, 'महाराज ! मैंने बहुत अपराध किये हैं, कई लोगों को लूटा है यहाँ तक कि हत्याएँ भी की है। लेकिन अब मैं ऊब चुका हूँ। मैं भी शांतिपूर्ण जीवन जीना चाहता हूँ। अपने परिवार वालों के साथ रहना चाहता हूँ।

- (क) महात्मा जी कहाँ आए ?
 (ख) लोग अपने जीवन में क्या उतारने का प्रयत्न करते थे ?
 (ग) महात्मा जी का जीवन कैसा था ?
 (घ) लुटेरा किसके पास गया ?
 (ङ.) महात्मा जी ने कैसे पहचाना कि वह व्यक्ति लुटेरा है ?

गृहकार्य-2

प्रश्न- प्रस्तुत पद्यांश को पढ़कर नीचे लिखे प्रश्नों के उत्तर लिखिए -

परमेश्वर के खेल निराले,
 कितने प्यारे-प्यारे हैं।
 आसमान है उसका छाता,
 जिसमें टँके सितारे हैं।
 घुमा रहा है रात-दिनों की,
 फिरकी काली-पीली।

धरती उसकी गेंद बनी,
 कुछ मैली, कुछ चमकीली।
 बिजली उसकी आतिशबाजी है,
 बादल के फौवारे हैं।
 परमेश्वर के खेल निराले,
 कितने प्यारे-प्यारे हैं।

- (क) परमेश्वर के खेल कैसे हैं ?
 (ख) परमेश्वर का छाता क्या है ?
 (ग) छाते में क्या टँका है ?
 (घ) कवि के अनुसार परेश्वर किसकी फिरकी घुमा रहा है ?
 (ङ.) काव्यांश में धरती की तुलना किससे की गई है ?
 (च) फौवारे किसके हैं ?
 (छ) 'आसमान' शब्द का पर्यायवाची शब्द लिखिए।

गृहकार्य-3

प्रश्न- उदाहरण द्वारा समझकर खाली स्थान भरिए और एक दूसरे के विलोम शब्द लिखिए -

- (क)

	दु
सु	ख

 (ख)

	यो
	गी

 (ग)

व्य	य
- (घ)

		बू

 (ङ.)

		मा
		व

 (च)

	त्था	न

गृहकार्य -4

प्रश्न - अपनी मन पसंद पोशाक का चित्र बनाकर चार वाक्यों में लिखिए कि आप उसे क्यों पहनना पसंद करते हैं।

गृहकार्य -5

प्रश्न - दिनेश ने हाथ बढ़ाकर गेंद उठा ली। इस वाक्य में दिनेश व्यक्ति का नाम और गेंद वस्तु का नाम है। किसी व्यक्ति, वस्तु तथा स्थान के नाम को संज्ञा कहते हैं।

नीचे लिखे वाक्यों में से संज्ञा शब्द छाँटकर लिखिए -

(क) अनिल ने फिर उसकी बात काट दी।

(ग) उसकी पेंसिल खो गई है।

(ख) वह दिल्ली घूमने गई।

(घ) अच्छा मैं गेंद ला रहा हूँ।

गृहकार्य -6

प्रश्न- दिए गए शब्दों के चित्र बनाइए और उसका वाक्य में प्रयोग कीजिए।

(क) फुटबॉल


(ग) सूरज

(ख) विद्यालय

(घ) बादल

गृहकार्य -7

प्रश्न-दिए गए पेड़ के चित्र में से स्वर और व्यंजनों को छाँटकर उचित तालिका में लिखिए -



स्वर

व्यंजन

.....
.....
.....

.....
.....
.....

गृहकार्य -8

प्रश्न - चित्र देखकर पहेलियों को समझिए एवं उचित चित्रों के दो-दो नाम लिखिए -

पहेली

चित्र

नाम

(क) रात में नभ पर आ जाता हूँ,
मैं शीतलता फैलाता हूँ,
दिन चढ़े फिर छिप जाता हूँ।



.....

.....

(ख) कीचड़ में खिलता हूँ,
सबसे सुंदर दिखता हूँ।



.....

.....

(ग) सच्चा साथी मैं कहलाऊँ,
तुमको कितना ज्ञान दिलाऊँ।



.....

.....

(घ) भूख लगे तो फल खिलालूँ
धूप लगे तो छाया बन जाऊँ।



.....

.....

गृहकार्य -9

प्रश्न -हमारे मददगार जैसे डॉक्टर, लुहार, किसान आदि किन्हीं पाँच के चित्र चिपकाकर एक वाक्य में उनके काम लिखिए।

गृहकार्य - 10

प्रश्न-जिस इमारत में तीन मंजिलें हो, उसे तिमंजिली इमारत कहते हैं। निम्नलिखित को क्या कहेंगे लिखिए

* जिस मकान में दो मंजिलें हों-

* जिस झंडें में तीन रंग हो -

* जिस स्कूटर में दो पहिए हों -

* जिस स्थान पर चार रास्ते हों -

* जिस इमारत में बहुत सी मंजिलें हों -

प्रश्न - निम्नलिखित मुहावरों का वाक्यों में प्रयोग कीजिए -

1- तवे की तरह तपना -

2- मुँह की खाना -

3- दौंत पीसना -

4 - कान खा जाना -

5- आण बबूला होना -

गृहकार्य - 11

प्रश्न-क- उचित शब्द द्वारा रिक्त स्थानों की पूर्ति कीजिए -

1द्वारा हम अपनी बात दूसरों तक पहुँचा सकते हैं। (भाषा/बोली)

2. पत्र लेखन भाषा का.....रूप है।

(मौखिक/लिखित)

ख - वर्णों को मिलाकर शब्द बनाइए -


• स्+ऊ+र+अ+ज्+अ =

• ब्+आ+द्+अ+ल्+अ =

• क्+ओ+य्+अ+ल्+अ =

गृहकार्य - 12

प्रश्न- दिनु गण चित्र को देखकर पाँच वाक्य लिखिए -



गृहकार्य - 13

प्रश्न -निम्नलिखित के दो-दो पर्यायवाची शब्द लिखिए -

आँख -.....,

कमल -.....,

घर -

रात -

हवा -

गृहकार्य - 14

प्रश्न-बच्चे की माँ ने उसे बादलों के बारे में क्या-क्या बताया होगा ? अनुमान लगाकर पाँच वाक्यों में लिखिए -



गृहकार्य - 15

प्रश्न-अपनी सुलेख पुस्तिका में 10 पेज सुन्दर अक्षरों में सुलेख लिखिए।

4 Mathematics

WORKSHEET -1

Paste pictures of objects/ things which are connected to 5 – digit numbers and write few lines about the object.

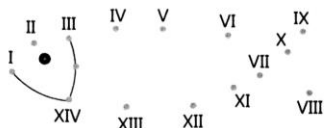


For example:

Cost of an ordinary Laptop is Rs. 28,876.

WORKSHEET – 2 ROMAN NUMERALS

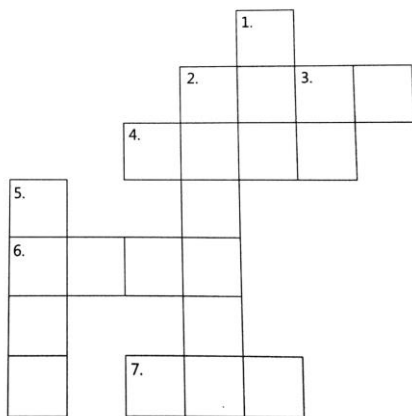
1. Join the dots to get an aquatic animal.



2. Solve the following crossword puzzle with the help of given clues.
[Hint: Record all your answer in Roman Numerals.]

Across	
3.	$500 - 100 =$ _____
4.	$27 - 5 =$ _____
6.	$72 - 8 =$ _____
7.	$50 + 9 =$ _____

Down	
1.	$66 - 16 =$ _____
2.	$31 + 6 =$ _____
5.	$40 + 2 =$ _____



WORKSHEET -3

Objective: To form Roman Numerals using only I, V and X by using matchstick or tooth picks.

Materials required: 20 match sticks or toothpicks, glue, a drawing sheet.

Procedure: Use the match sticks/ toothpicks, to form any five Roman numerals on a drawing sheet.



For example:  = 2

WORKSHEET -4

Write the numbers 0 to 9 in any three regional Language in the space provided.

Language	Numbers (0 to 9)

WORKSHEET -5

Addition, subtraction, multiplication and division with changed signs

Carry out the following calculations if

- Means '+', @ means '-', \$ means 'x', and # means '÷'.

1. $23151 * 34743 =$ _____
2. $33442 @ 12257 =$ _____
3. $3538 \$ 27 =$ _____
4. $33075 \# 15 =$ _____

WORKSHEET -6

1. Find the difference when:

a) Minuend = 43198 and subtrahend = 20076

b) Minuend = 98620 and subtrahend = 74510

2. Find the missing digits and write in the boxes:

$$\begin{array}{r}
 \text{a) } 9 \square 5 \quad 1 \quad 4 \\
 - \square 8 \quad 7 \quad 2 \quad \square \\
 \hline
 4 \quad 1 \square \quad 8 \quad 8
 \end{array}$$

$$\begin{array}{r}
 \text{b) } 3 \quad 4 \quad 2 \quad 5 \quad 8 \quad \square \\
 - 1 \quad \square \quad 6 \quad \square \quad 9 \quad 5 \\
 \hline
 1 \quad 6 \quad \square \quad 0 \quad \square \quad 6
 \end{array}$$

WORKSHEET -7

1. Divide the following

a) $2985 \div 6$ b) $8327 \div 4$ c) $6081 \div 7$

d) $3538 \div 9$ e) $7195 \div 8$ f) $5807 \div 6$

g) $7846 \div 3$ h) $9352 \div 7$ i) $8079 \div 9$

WORKSHEET -8

1. Fill in the boxes:

a)

	2	1	4	
x		1	<input type="text"/>	
<hr/>				
<input type="text"/>	<input type="text"/>	<input type="text"/>	<input type="text"/>	
<input type="text"/>	<input type="text"/>	<input type="text"/>	0	
<hr/>				
<input type="text"/>	6	3	8	

b)

	1	2	8	
x		3	<input type="text"/>	
<hr/>				
<input type="text"/>	4	<input type="text"/>		
<input type="text"/>	<input type="text"/>	<input type="text"/>	0	
<hr/>				
<input type="text"/>	<input type="text"/>	<input type="text"/>	0	

WORKSHEET -9

1. Fill in the missing Digits

	7		2		9
		8		3	
+					
	8	9	3	7	9

	1	8		5	7
+			4		8
	9	4	3	1	

Solve : $23456 + 23323 - 23109$

WORKSHEET -10

Write some subtraction stories (word problems) of your own.

Find out the cost of an ordinary TV and a refrigerator.(Both will be five digit numbers)

Now write a word problem as follows:

Word problem: A TV. Costs Rs. _____ and a refrigerator costs Rs _____.

Which cost more and by What amount?

Same way Find other such situations and write word problems using them.

WORKSHEET -11

1. Write the number name for the following numerals according to the International Number System by separating the periods using commas.

a) 546789087 b) 78321609 c) 638756146 d) 659821098

2. Write the number name for the following numerals according to the Indian Number system by Separating the periods using commas.

a) 579800002 b) 509098007 c) 700000002 d) 100003002

WORKSHEET -12

1. Write the place value and the face value of underlined digits

a) 65, 87, 543 b) 98,76,54, 500 c) 48,64,213 d) 9, 56, 273

2. Write the predecessor and successor of the following numbers:

a) 543870976 b) 65109876 c) 50987123 d) 2098765

3. Write the following numbers in expanded form:

a) 67, 890 b) 32, 45, 654 c) 46, 50, 654 d) 542109877

WORKSHEET -13

1. Arrange the following number in ascending order:

a) 456227, 81742, 71859

b) 44872, 46797, 43378, 917829

c) 54444, 54441, 54443, 545490